

a)  $2^x < 3^x$

b)  $4^x > 5^x$

c)  $3^{x-2} < 4^{x-2}$

č)  $7^{x+3} > 8^{x+3}$

d)  $5^{-x} > 6^{-x}$

e)  $\left(\frac{3}{4}\right)^x > 1$

f)  $9^x < 1$

g)  $0,3^x < 1$

Teorija

Rešiti moramo eksponentne neenačbe tipa  $a^x < b^x$  oz.  $a^x > b^x$ . Osnovi sta različni, eksponenta pa enaka. Naloga se lotim na grafični način. Levo stran vzamem za funkcijo  $f_1(x) = a^x$ , desno za  $f_2(x) = b^x$ . Narišem grafa obeh funkcij in iz grafa odčitam rešitev.

Rešitev

a)  $2^x < 3^x$

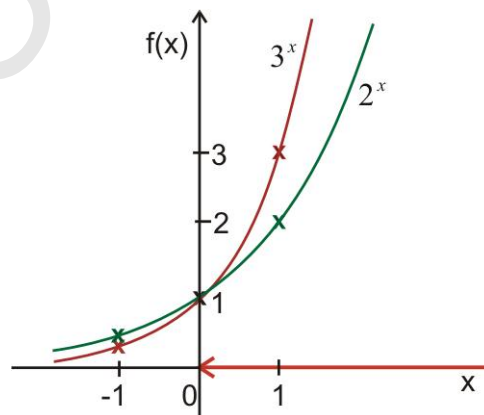
$x =$

$f_1(x) = 2^x$

$f_2(x) = 3^x$

Narišem oba grafa. Najhitreje to naredim, če obe funkciji tabeliram v  $x = -1, 0, 1$  (glej racionalna funkcija).

$x$	$2^x$
-1	1/2
0	1
1	2



$x$	$3^x$
-1	1/3
0	1
1	3

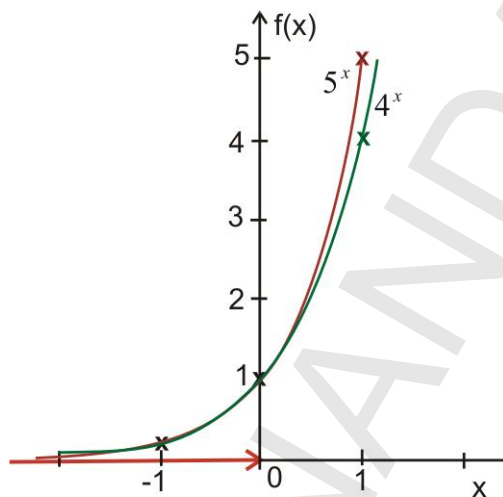
Iz grafa odčitam, da je  $2^x$  pod  $3^x$  desno od izhodišča, torej za  $x > 0$ . Torej ima neenačba  $2^x < 3^x$  za rešitev  $x \in (0, \infty)$ .

b)  $4^x > 5^x$   
 $x =$

$f_1(x) = 4^x$

$f_2(x) = 5^x$

$x$	$4^x$
-1	1/4
0	1
1	4



$x$	$5^x$
-1	1/5
0	1
1	5

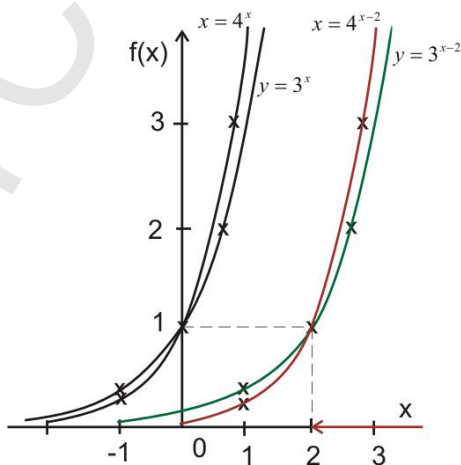
$R: x < 0$

c)  $3^{x-2} < 4^{x-2}$   
 $x =$

$f_1(x) = 3^{x-2}$

$f_2(x) = 4^{x-2}$

$x$	$3^x$	$3^{x-2}$
-1	1/3	Po x osi
0	1	$3^x$ za 2
1	4	desno



$x$	$4^x$	$4^{x-2}$
-1	1/4	Po x osi
0	1	$4^x$ za 2
1	4	desno

Odčitam, kje leži graf  $y = 3^{x-2}$  pod  $4^{x-2}$ :

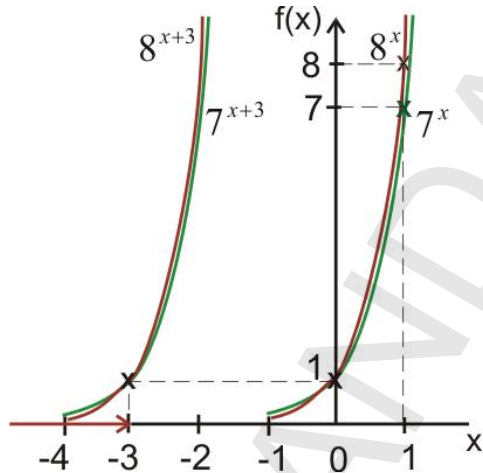
$R: x > 2$

č)  $7^{x+3} > 8^{x+3}$   
 $x =$

$f_1(x) = 7^{x+3}$

$f_2(x) = 8^{x+3}$

$x$	$7^x$	$7^{x+3}$
-1	1/7	3 levo po x
0	1	
1	7	



$x$	$8^x$	$8^{x+3}$
-1	1/4	3 levo po x
0	1	
1	4	

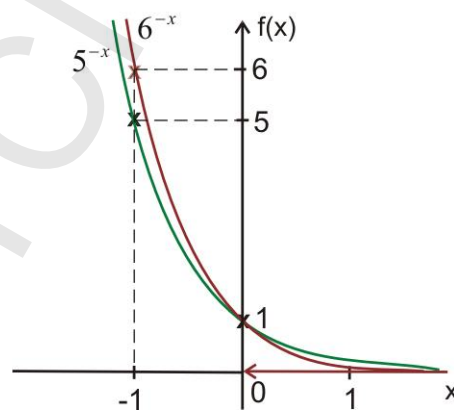
Iz grafa vidim, da  $f_1(x)$  leži nad  $f_2(x)$  na intervalu  $x < -3$ . To je tudi rešitev neenačbe:  
 $x < -3$

d)  $5^{-x} > 6^{-x}$   
 $x =$

$f_1(x) = 5^{-x}$

$f_2(x) = 6^{-x}$

$x$	$5^{-x}$
-1	5
0	1
1	1/5



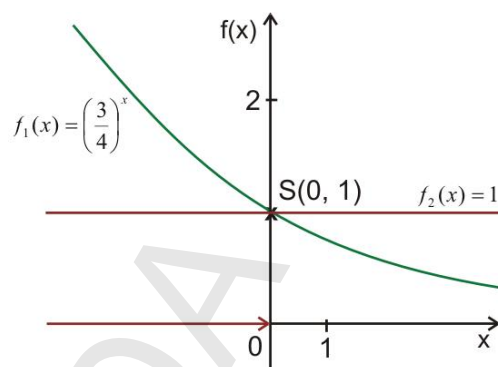
$x$	$6^{-x}$
-1	6
0	1
1	1/6

Rešitev so x-i, kjer graf  $f_1(x)$  leži nad  $f_2(x)$ :  
 $x > 0$

e)  $\left(\frac{3}{4}\right)^x > 1$   
 $x =$

$f_1(x) = \left(\frac{3}{4}\right)^x$   
 $f_2(x) = 1$

$x$	$\left(\frac{3}{4}\right)^x$
-1	4/3
0	1
1	3/4



Še računsko izračunam presečišče  $f_1(x) \wedge f_2(x)$ :

$$\left(\frac{3}{4}\right)^x = \left(\frac{3}{4}\right)^0$$

$$S(x=0, y=1)$$

Rešitev neenačbe je interval levo od presečišča:  $x < 0$

f)  $9^x < 1$   
 $x =$

$f_1(x) = 9^x$   
 $f_2(x) = 1$

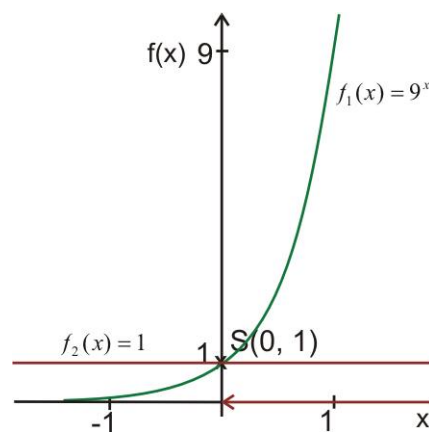
$x$	$9^x$
-1	4/3
0	1
1	3/4

Presečišče:

$$9^x = 1$$

$$9^x = 9^0$$

$$S(x=0, y=1)$$



Rešitev so x-i, kjer graf funkcije  $9^x$  leži nad 1:  $x > 0$

g)  $0,3^x < 1$   
 $x =$

$f_1(x) = 0,3^x$   
 $f_2(x) = 1$

$x$	$0,3^x = \left(\frac{3}{10}\right)^x$
-1	10/3
0	1
1	3/10

Presečišče:

$$0,3^x = 1$$

$$0,3^x = 0,3^0$$

$$S(x=0, y=1)$$

Rešitev:  $x > 0$

